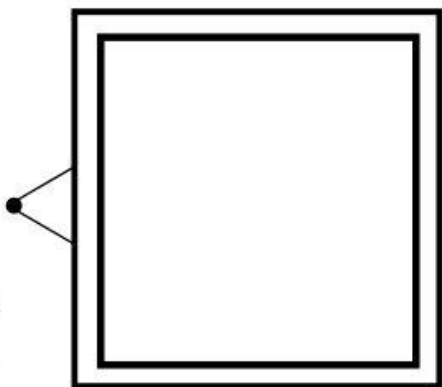
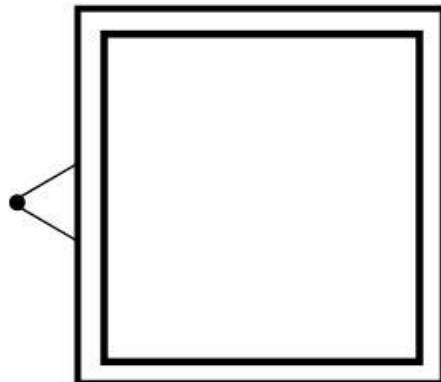


Karty pracy

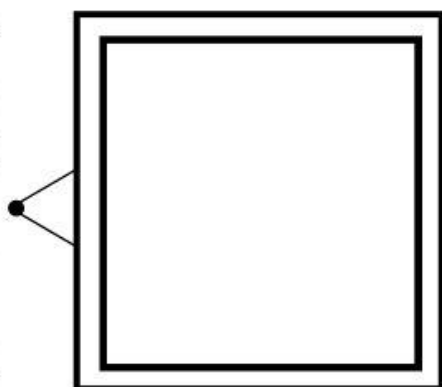
Narysuj portrety członków swojej rodziny. Podpisz osoby.



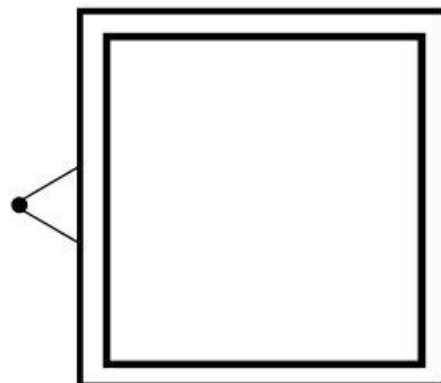
To \_\_\_\_\_



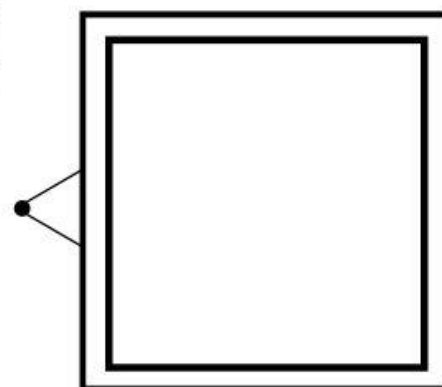
To \_\_\_\_\_



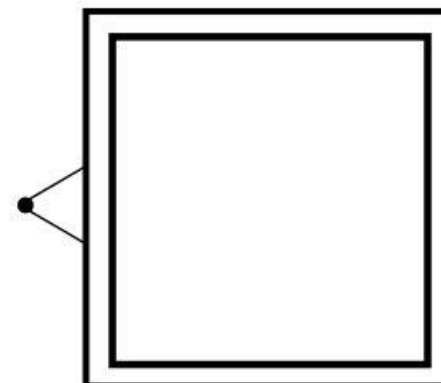
To \_\_\_\_\_



To \_\_\_\_\_




To \_\_\_\_\_



To \_\_\_\_\_

## Suknia dla mamy i krawat dla taty

Mama Lilki marzy o pięknej sukni w niepowtarzalne wzory. Tata Kacpra chciałby mieć krawat w geometryczne kompozycje. Ozdób ubrania zgodnie z instrukcją.



Niebieska figura mająca 3 boki.  
Czerwona figura nie mająca boków.  
Zielony prostokąt.  
Żółta figura mająca 4 boki o takiej samej długości.  
Koło w kolorze buraka.  
Trójkąt w kolorze węgla.


Różowa figura w kształcie zakrętki od słoika.

Zielona figura mająca mniej niż 4 boki.

Niebieska figura bez kątów.

Czarny kwadrat.

Czerwona figura mająca 4 boki różnej długości.



# Geometryczna kubek dla mamy i taty

Popatrz uważnie na kubek. Policz figury, które się na nim znajdują. Odpowiedz na pytania.



Których figur jest najwięcej? Których figur jest najmniej? Jak nazywa się niebieska figura? W jakim kolorze jest trójkąt? O ile więcej jest kwadratów niż prostokątów? O ile mniej jest kół niż trójkątów?