



KARTA 56

1 NA TALERZU BYŁO 5 JABŁEK. ADAM ZJADŁ 1 JABŁKO. ILE JABŁEK ZOSTAŁO NA TALERZU?




$$\boxed{5} - \boxed{1} = \boxed{}$$

2 NA STOLE BYŁO 5 JAJEK. TATA ZJADŁ 2 JAJKA. ILE JAJEK ZOSTAŁO NA STOLE?



$$\boxed{} - \boxed{} = \boxed{}$$

3 NA ŁĄCE BYŁO 5 ŻAB. 3 ŻABY WSKOCZYŁY DO WODY. ILE ŻAB ZOSTAŁO NA ŁĄCE?



$$\boxed{} - \boxed{} = \boxed{}$$